

Nr. 18 Planfigur und Kongruenzsatz nicht vergessen!!!

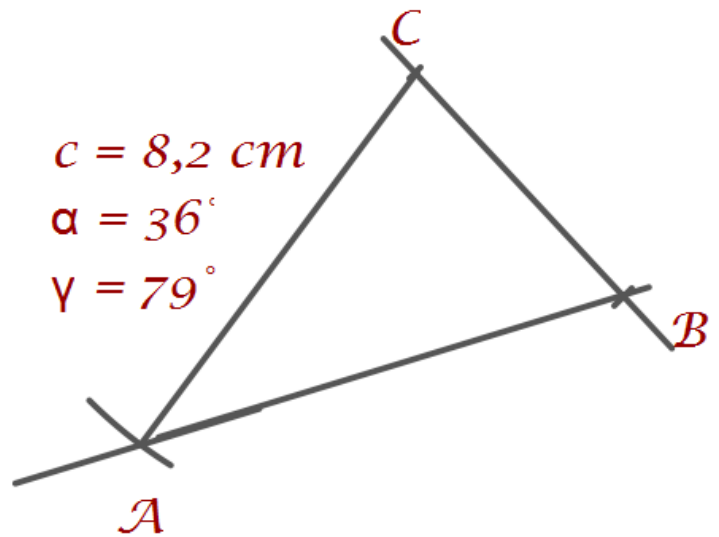
Beginne immer mit der Seite, an der 2 andere gegebene Stücke anliegen!

Also hier mit Seite a!

Dann Winkel α abtragen.

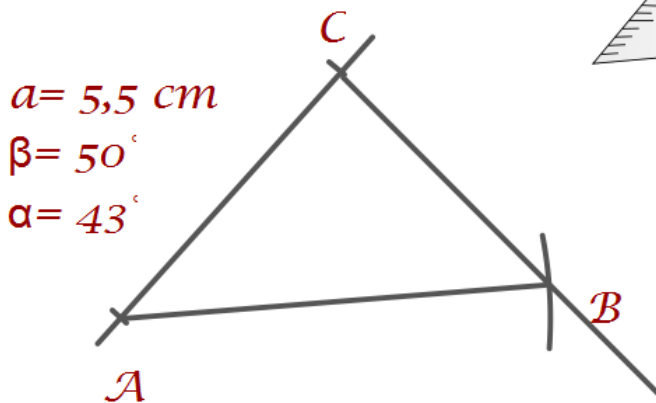
Dann Kreisbogen um c mit Radius b.

Alles klar?

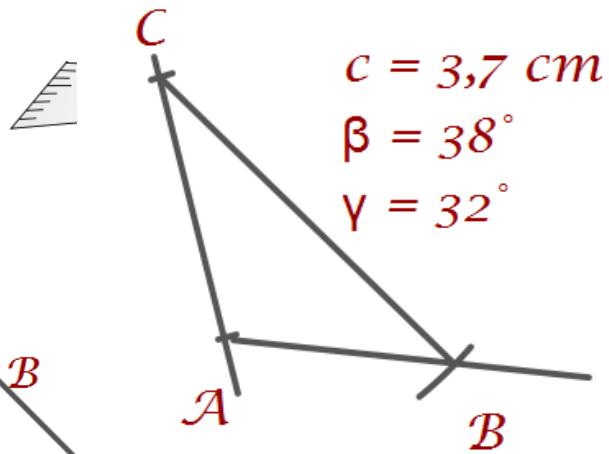


Nr. 19

a)

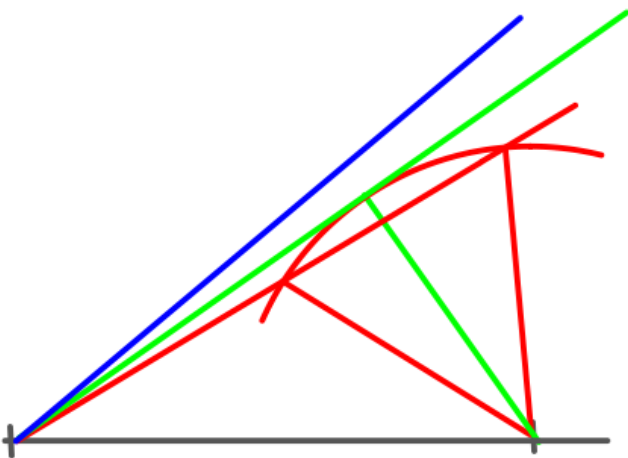


b)



Nr. 20

S.164 Nr. 23



$\alpha = 30^\circ \rightarrow 2 \text{ Dreiecke}$

$\alpha = 33,5^\circ \rightarrow \text{ein Dreieck}$

$\alpha = 40^\circ \rightarrow \text{kein Dreieck}$

